

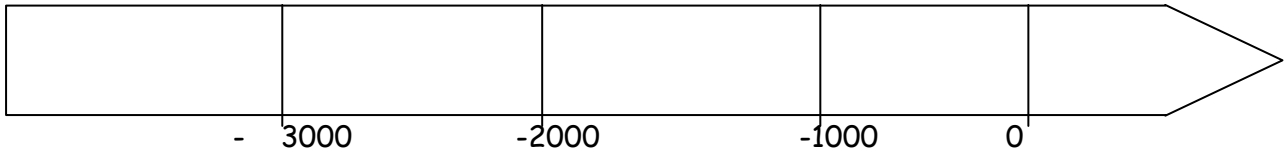
Nom :

Prénom :

Classe :

## Contrôle : l'Orient ancien au III<sup>e</sup> millénaire

### Exercice 1 : « Avoir des repères historiques »

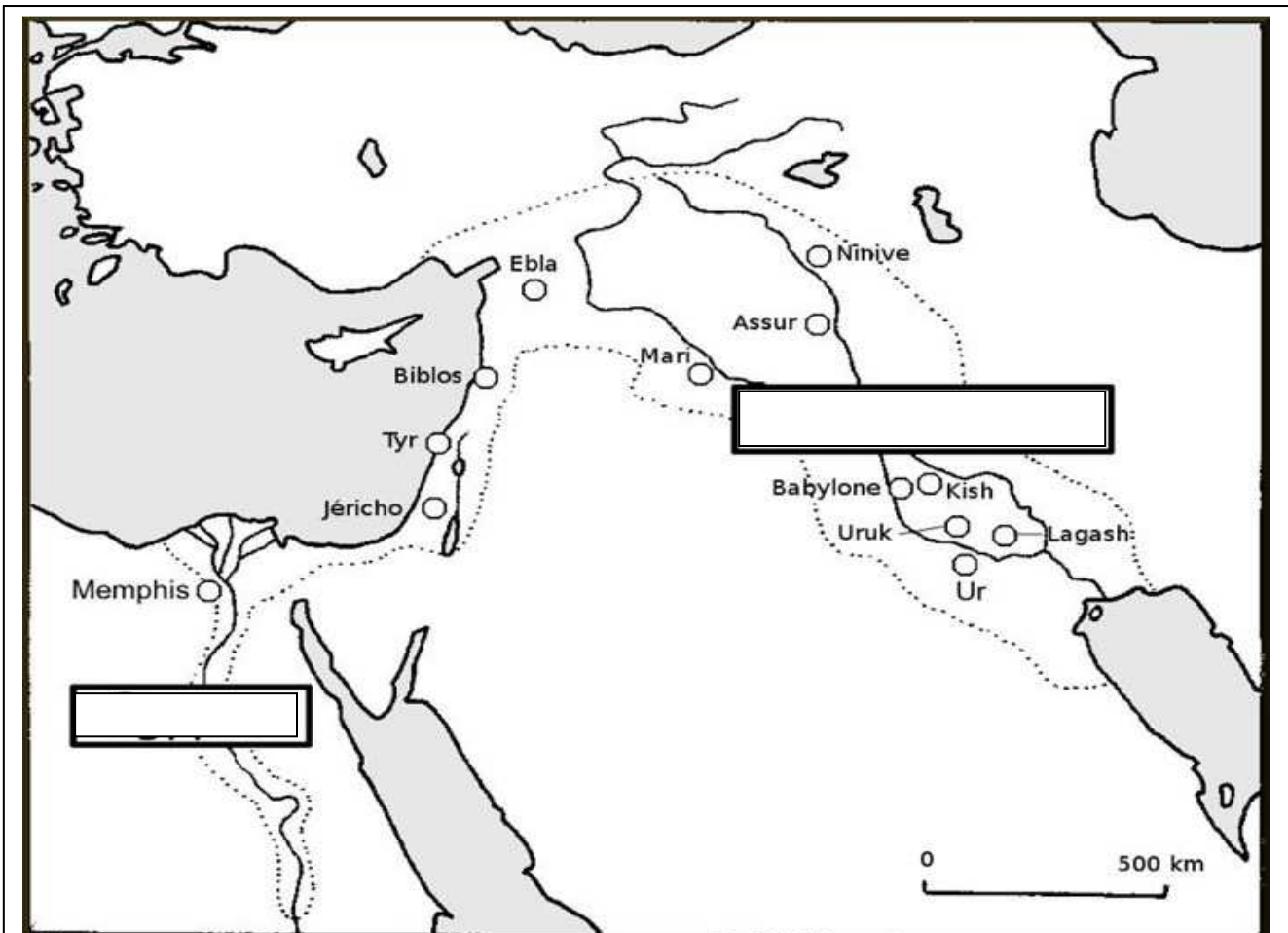


1. Les premières écritures datent de 3500 av JC, placer cette date sur la frise chronologique.
2. Colorier en bleu le III<sup>e</sup> millénaire avant JC.

### Exercice 2 : « Connaître la carte de l'orient ancien »

Sur la carte :

- Placer en noir dans les cadres : les noms des régions : **Egypte et Mésopotamie**.
- Placer en bleu les noms des trois fleuves : **Nil, Euphrate et Tigre**.
- Colorier en vert les « vallées fertiles »
- Compléter la légende



Légende :

Bleu : les fleuves

Les vallées fertiles

### Exercice n°3 : « Connaître la leçon »

1. Expliquer pourquoi les cités se sont développées près des fleuves.
2. Relier les mots à leurs définitions :

Scribe	■	■ qui croit en plusieurs dieux
Polythéiste	■	■ personne savante sachant écrire
Cité-Etat	■	■ ville et campagne dirigée par un roi

### Exercice n° 4 : « Comprendre un document »

« Ur, cité de la destinée favorable, noble trône de la royauté, cité princière de Sumer, bâtie en un lieu pur (...) Je suis Ur-Nammu ; du ciel, la royauté est descendue vers moi.

Uta, le dieu du soleil et de la justice, a placé le mot justice dans ma bouche. Je suis le protecteur de la ville et je veille pour mon peuple à l'abondance du bétail et à la fertilité des champs. Pour Nanna le dieu-lune, j'ai bâti un temple. »

Hymne (*chant*) du roi U-Nammu, Extrait d'après une tablette d'argile vers 2100 avt J-C.

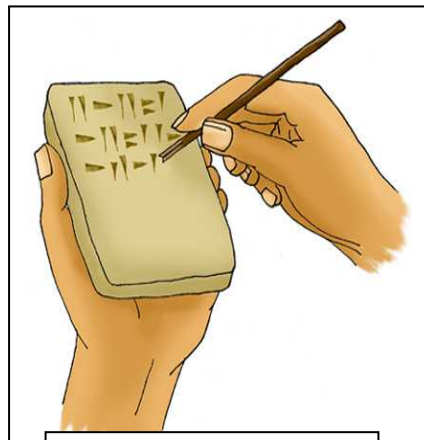
1. Quelle est la nature de ce document, de quand date-t-il ?
2. Qui était Ur-Nammu ?
3. Pour qui Ur-Nammu a-t-il fait bâtir un temple ?  
D'après vos connaissances, comment s'appelle ce temple et à quoi ressemble-t-il ?
4. Combien de noms de dieux sont évoqués dans le texte ? les relever.

### Exercice n° 5 : « Reconnaître les écritures »


1. Compléter les deux cadres avec les noms des écritures 2 et 3 : **cunéiformes / hiéroglyphes**
2. Dans quelle région l'écriture 3 a-t-elle été inventée ?
3. A quoi servaient les écritures ?



① Pictogrammes



②



③